

24 Verbinde: Immer zwei Rechnungen passen.

$1 + 3$	5	$2 + 2$
$2 + 3$	4	$3 + 2$
$3 + 3$	6	$4 + 2$

$4 + 4$	9	$3 + 6$
$2 + 5$	7	$4 + 3$
$4 + 5$	8	$3 + 5$

25 Tempo-Rechnen

$5 + 2 = \underline{\quad}$ $2 + 3 = \underline{\quad}$

$1 + 7 = \underline{\quad}$ $4 + 5 = \underline{\quad}$

$3 + 3 = \underline{\quad}$ $6 + 2 = \underline{\quad}$

$4 + 1 = \underline{\quad}$ $7 + 3 = \underline{\quad}$

$2 + 7 = \underline{\quad}$ $5 + 4 = \underline{\quad}$

$3 + 4 = \underline{\quad}$ $1 + 6 = \underline{\quad}$

$2 + 2 = \underline{\quad}$ $6 + 3 = \underline{\quad}$

Wie schnell bist du?
Lass einen Erwachsenen
deine Zeit stoppen!

$4 + 3 = \underline{\quad}$

$2 + 1 = \underline{\quad}$

$4 + 4 = \underline{\quad}$

$3 + 5 = \underline{\quad}$

$5 + 5 = \underline{\quad}$

$2 + 8 = \underline{\quad}$



Zeit: Minuten und Sekunden / Fehler

Tip: Rechne gleich morgen noch einmal!




Decke dazu deine Lösungen ab! Kannst du dich verbessern?

26 Pfeilaufgaben

Der Pfeil oben zeigt,
wie viel dazukommt.

	+ 2		+ 3		+ 4
	↘		↘		↘
4	6	3		6	
8		6		4	


27 Wohin passen die Puzzleteile?
Schreibe die passenden Zahlen dazu.



28 Wie viele Ballons sind es insgesamt?

Wie viele fliegen weg?

Wie viele bleiben übrig?



9 - =



8 - =



 - =


Es werden weniger!
Rechne jetzt mit Minus!



29 Auch hier mit Minus:

Wie viel Eis war da? Wie viel wurde gegessen?

Wie viel ist jetzt noch da?




6 - =



 - =



 - =

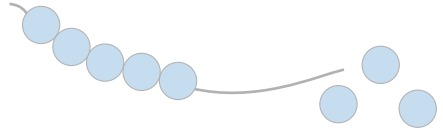


 - =

30 Welche Aufgaben sind es? Schreibe und rechne.



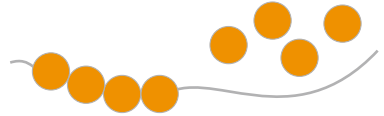
$$7 - 1 = \underline{\quad}$$



$$8 - \underline{\quad} = \underline{\quad}$$



$$\underline{\quad} - \underline{\quad} = \underline{\quad}$$



$$\underline{\quad} - \underline{\quad} = \underline{\quad}$$



$$\underline{\quad} - \underline{\quad} = \underline{\quad}$$



$$\underline{\quad} - \underline{\quad} = \underline{\quad}$$

31 Wie viel muss weg? Streiche durch und rechne.



$$5 - 2 = \underline{\quad}$$



$$7 - 4 = \underline{\quad}$$



$$6 - 5 = \underline{\quad}$$



$$10 - 3 = \underline{\quad}$$



$$9 - 2 = \underline{\quad}$$



$$8 - 5 = \underline{\quad}$$



$$\underline{\quad} - \underline{\quad} = \underline{\quad}$$



$$\underline{\quad} - \underline{\quad} = \underline{\quad}$$

32 Tempo-Rechnen

$$\begin{array}{r}
 5 - 2 = \underline{\quad} \quad 9 - 3 = \underline{\quad} \\
 7 - 5 = \underline{\quad} \quad 4 - 1 = \underline{\quad} \\
 4 - 2 = \underline{\quad} \quad 5 - 3 = \underline{\quad} \quad 7 - 3 = \underline{\quad} \\
 9 - 4 = \underline{\quad} \quad 3 - 2 = \underline{\quad} \quad 10 - 8 = \underline{\quad} \\
 10 - 5 = \underline{\quad} \quad 9 - 7 = \underline{\quad} \quad 2 - 2 = \underline{\quad} \\
 6 - 3 = \underline{\quad} \quad 5 - 4 = \underline{\quad} \quad 8 - 4 = \underline{\quad} \\
 8 - 3 = \underline{\quad} \quad 10 - 6 = \underline{\quad} \quad 9 - 6 = \underline{\quad}
 \end{array}$$

Wie schnell bist du bei Minusaufgaben? Stoppe wieder die Zeit!



Zeit: Minuten und Sekunden / Fehler

Tipp: Rechne gleich morgen noch einmal!
 Decke dazu deine Lösungen ab! Kannst du dich verbessern?

33 Pfeilaufgaben

Der Pfeil oben zeigt, wie viel weg muss.

	-3		-2		-5
	↘		↘		↘
4	1	6		8	
9		8		10	
7		10		7	

34 Zeichne das Muster selbst genauso weiter.

