

Mein Übungsheft

Rechnen

4. Klasse



$$2 \cdot 17,99 \text{ €}$$



$$3 \cdot 4,79 \text{ €}$$



7	4	5	6	:	8	=	9	3	2
-	7	2							
		2	5						
		-	2	4					
				1	6				
				-	1	6			
					0				



Arne und Papa fahren mit dem Wohnwagen in den Urlaub. Sie kommen nach 6 h und 44 min um 14:37 Uhr an.

Wann sind sie losgefahren?



gemeinsam
wachsen lernen

hauskaverlag

Inhaltsverzeichnis

Wiederholung

Addition/Subtraktion bis 1000	1
Multiplikation/Division bis 1000	6

Zahlen entdecken und rechnen bis 1 000 000

Zahlen bis 10 000	10
Addition/Subtraktion bis 10 000	12
Zahlen bis 100 000	14
Addition/Subtraktion bis 100 000	15
Multiplikation/Division bis 100 000	17
Zahlen bis 1 000 000	20
Schriftliche Addition/Subtraktion	22
Schriftliche Multiplikation/Division	30

Rechnen mit Größen

Geldbeträge	42
Längenmaße	45
Gewichte	48
Hohlmaße	51
Zeit	54
Gemischte Aufgaben	56

Herausnehmbarer Lösungsteil nach Seite 28

Hauschka Lernhilfen, Heft 434
© 2021 Hauschka Verlag GmbH
Lilienthalstr. 1, 82178 München
Telefon +49 89 8940667-0
Fax +49 89 8940667-69
E-Mail: info@hauschkaverlag.de
www.hauschkaverlag.de

Verfasserin: Diana Depireux, Obertshausen
Lektorat: Agnes Spiecker, Freising
Illustrationen: Mascha Greune, München;
Gisela Specht, Weßling
Gestaltung und Layout: Sina Weiß, München
Druck: PASSAVIA Druckservice GmbH & Co. KG, Passau
Printed in Germany. Alle Rechte vorbehalten.
ISBN 978-3-88100-434-3

1 Ordne die Zahlen von Groß nach Klein.

~~996~~
 632
 969
 963
696
 623
 936
 669

996 > _____ > _____ > _____ > _____ > _____ > _____

2

	T	H	Z	E		T	H	Z	E
69									
560					dreißig				
650					neunhundertzwanzig				
1000					neunhundertsechs				
					eintausendvierzehn				

3

$30 + 20 = \underline{\quad}$	$40 + 30 = \underline{\quad}$	$50 + 40 = \underline{\quad}$
$300 + 200 = \underline{\quad}$	$400 + 300 = \underline{\quad}$	$500 + 400 = \underline{\quad}$
$60 - 30 = \underline{\quad}$	$80 - 20 = \underline{\quad}$	$90 - 60 = \underline{\quad}$
$600 - 300 = \underline{\quad}$	$800 - 200 = \underline{\quad}$	$900 - 600 = \underline{\quad}$

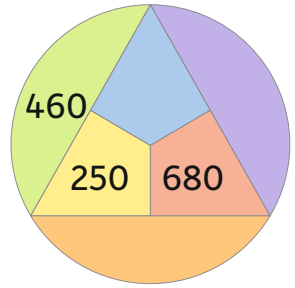
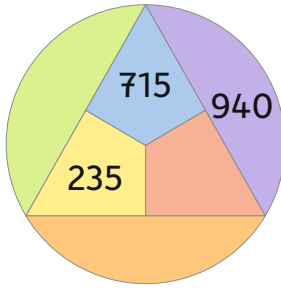
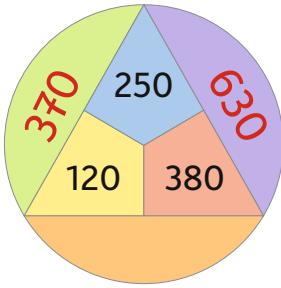
4

400 — + 150 → 550 — + 130 → — + 50 →

900 — - 350 → — - 320 → — - 50 →

830 — - → 420 — + → 510 — - → 90

1 Zwei Felder nebeneinander ergeben addiert die Zahl am Kreisrand.



2 $23 + 35 = \underline{\quad}$ $52 + 27 = \underline{\quad}$ $86 - 43 = \underline{\quad}$

$123 + 35 = \underline{\quad}$ $152 + 27 = \underline{\quad}$ $186 - 43 = \underline{\quad}$

$323 + 135 = \underline{\quad}$ $552 + 227 = \underline{\quad}$ $586 - 143 = \underline{\quad}$

3 $491 + \underline{\quad} = 500$ $298 + \underline{\quad} = 304$ $774 + \underline{\quad} = 810$

$684 + \underline{\quad} = 700$ $395 + \underline{\quad} = 410$ $864 + \underline{\quad} = 930$

$106 - \underline{\quad} = 99$ $414 - \underline{\quad} = 380$ $725 - \underline{\quad} = 690$

$207 - \underline{\quad} = 195$ $513 - \underline{\quad} = 480$ $845 - \underline{\quad} = 799$

4 Beide Buchseiten ergeben zusammen immer 1000.



1	4 4 2	6 8 4	2 3 8	4 9 1
	+ 3 4 3	+ 2 1 0	+ 5 5 6	+ 3 6 5
	T 7 8 5	O	E	R
	2 3 2	3 2 5	1 6 6	4 8 8
	2 1 3	4 1 3	2 2 5	2 3 0
	+ 3 0 1	+ 1 4 2	+ 3 3 1	+ 2 0 5
	A	T	K	M

Ordne die Buchstaben vom kleinsten bis zum größten Ergebnis, dann erhältst du den Namen von dieser Tigerkatze.





2 Welche Ziffern fehlen hier?



1	2	5 4	9 3	5
+ 5 3		+ 2 3 7	+ 1 5	+ 4 9 2
		1	1	1
4 7		2	8 5	8 8
3 0	8 6	1 9	6 9	
2 9	3 9 1	3 7	2 9	
+ 5 5 9	+ 2 2	+ 1 6 9	+ 1 8 8	
2	2	1 2	2 2	
9 2	8 4	7 5	7 0	