






Übung zur Aufmerksamkeit und Konzentration



Schaue dir das Bild genau an. Welches Schattenbild könnte dieses Tier darstellen? Kreise ein.






In Gruppen aufteilen




Teile die Pinguine in Dreiergruppen auf.
Löse die Geteiltaufgaben.




$$6 : 3 = 2$$



$$\underline{\quad} : 3 = \underline{\quad}$$



$$\underline{\quad} : 3 = \underline{\quad}$$



$$\underline{\quad} : 3 = \underline{\quad}$$




$$\underline{\quad} : 3 = \underline{\quad}$$



In Gruppen aufteilen



Teile die Pinguine in Dreiergruppen auf.
Löse die Geteiltaufgaben.



$$\underline{\hspace{2cm}} : 3 = \underline{\hspace{2cm}}$$



$$\underline{\hspace{2cm}} : 3 = \underline{\hspace{2cm}}$$



$$\underline{\hspace{2cm}} : 3 = \underline{\hspace{2cm}}$$



In Gruppen aufteilen



Teile die Pinguine in Dreiergruppen auf.
Löse die Geteiltaufgabe.



$$\underline{\quad} : 3 = \underline{\quad}$$




Kernaufgaben mit der 3




Schaue dir die **Kernaufgaben** genau an.


Rechne die Malaufgaben aus und schreibe zu jeder Aufgabe die passende Geteiltaufgabe.




$$3 : 3 = 1$$



$$\underline{\quad} : 3 = \underline{\quad}$$



$$\underline{\quad} : 3 = \underline{\quad}$$



$$\underline{\quad} : 3 = \underline{\quad}$$